













# SECUENCIA 9 –

## CLASE TICE: Preparo un viaje a España

1. Conéctate a internet y busca "Los doce tesoros de España". Completa el cuadro siguiente con **el nombre, la ciudad y la Comunidad Autónoma** de cada "tesoro":

<p>Nombre:</p> <p>Ciudad:</p> <p>Autonomía:</p>	<p>Nombre:</p> <p>Ciudad:</p> <p>Autonomía:</p>	<p>Nombre:</p> <p>Ciudad:</p> <p>Autonomía:</p>
 <p style="text-align: right;"><b>1</b></p>	 <p style="text-align: right;"><b>2</b></p>	 <p style="text-align: right;"><b>3</b></p>
<p>Nombre:</p> <p>Ciudad:</p> <p>Autonomía:</p>	<p>Nombre:</p> <p>Ciudad:</p> <p>Autonomía:</p>	<p>Nombre:</p> <p>Ciudad:</p> <p>Autonomía:</p>
 <p style="text-align: right;"><b>4</b></p>	 <p style="text-align: right;"><b>5</b></p>	 <p style="text-align: right;"><b>6</b></p>
<p>Nombre:</p> <p>Ciudad:</p> <p>Autonomía:</p>	<p>Nombre:</p> <p>Ciudad:</p> <p>Autonomía:</p>	<p>Nombre:</p> <p>Ciudad:</p> <p>Autonomía:</p>
 <p style="text-align: right;"><b>7</b></p>	 <p style="text-align: right;"><b>8</b></p>	 <p style="text-align: right;"><b>9</b></p>
<p>Nombre:</p> <p>Ciudad:</p> <p>Autonomía:</p>	<p>Nombre:</p> <p>Ciudad:</p> <p>Autonomía:</p>	<p>Nombre:</p> <p>Ciudad:</p> <p>Autonomía:</p>
 <p style="text-align: right;"><b>10</b></p>	 <p style="text-align: right;"><b>11</b></p>	 <p style="text-align: right;"><b>12</b></p>

2. Ahora, coloca "los doce tesoros" en el mapa de España : escribe el número que corresponde enfrente de cada flecha:



3. Encuentra la descripción de cada tesoro: escribe el número enfrente de cada etiqueta:

Ancien temple romain qui devint église puis mosquée, avant de devenir cathédrale. C'est un des monuments majeurs de l'architecture islamique, témoin de la présence musulmane en Espagne du VIII<sup>e</sup> au XV<sup>e</sup> siècle.

Grotte préhistorique qui renferme l'un des ensembles picturaux les plus importants de la Préhistoire.

Ensemble de palais fortifiés à l'architecture islamique, témoins de la présence arabe en Espagne. La **Cour des Myrtes** (*Patio de los Arrayanes*) et la **Cour des Lions** (*Patio de los Leones*) en sont les deux joyaux.

L'une des plus grandes cathédrales gothiques du monde, construite entre 1402 et le XVI<sup>e</sup> siècle. De style gothique, elle possède un clocher, la Giralda, ancien minaret hispano-mauresque de la grande mosquée qui s'élevait sur l'emplacement de l'actuelle cathédrale.

Basilique espagnole où on conserve et vénère la colonne (*pilar* en castillan) sur laquelle la Vierge Marie serait apparue à l'apôtre saint Jacques en 40 après J.-C.

Inscrit au patrimoine mondial de l'UNESCO depuis 2007, au titre de site naturel, ce parc a une superficie de 18 990 hectares et tire son nom du Teide, le volcan qui est le point culminant de l'Espagne.

Ce théâtre, qui fait partie du plus important site archéologique romain d'Espagne, a été construit à la demande du consul Marcus Vipsanius Agrippa et inauguré entre les années 16 et 15 av. J.-C.. D'une capacité d'environ 6 000 spectateurs, il est resté enfoui jusqu'au XX<sup>e</sup> siècle mais est à nouveau utilisé pour sa fonction d'origine et donne lieu à d'importants festivals de théâtre, de musique classique.

Cathédrale consacrée à l'apôtre Jacques de Zébédée. Elle est le point d'arrivée de nombreux chemins de pèlerinages. La coquille Saint-Jacques en est l'emblème.

Complexe culturel qui s'organise autour de trois thématiques principales : les arts, les sciences, et la nature. Il se compose entre autres de l'Hemisfèric, le musée des sciences Prince Philippe, l'Oceanogràfic...

Cathédrale emblématique du modernisme catalan, c'est l'œuvre inachevée d'Antoni Gaudí.

Située en plein centre-ville, elle offre d'extraordinaires vues panoramiques : la jolie baie en forme de coquille, l'île de Santa Clara au milieu et les monts Urgull et Igeldo sur les côtes. De sable doré et fin, les 1350 mètres de la plage nous permettent de faire de nombreuses activités sportives.

Musée d'art moderne et contemporain qui a ouvert au public en 1997. La structure innovante du bâtiment a été dessinée par Frank Gehry dans le style qui l'a rendu célèbre.

4. Ahora, vas a preparar tu viaje a España. Completa el cuadro:

Completa las frases en futuro:

..... (yo, ir) a España con .....

..... (nosotros, visitar) los tres "tesoros" siguientes :

- .....
- .....
- .....

..... (nosotros salir) de ..... e ..... (nosotros, ir) primero a ....., luego a ....., y ..... (nosotros, acabar) por .....

Conéctate en <http://www.viamichelin.es/> y calcula el itinerario completo de tu viaje. Escribe la ciudad de salida (départ), y la ciudad de llegada (arribée). Pincha en "añadir una etapa" y escribe las dos ciudades más en las que irás. Por fin pincha en "Buscar" para obtener el resultado. Completa:

¿Cuántos kilómetros recorrerás en total?	
¿Cuánto tiempo pasarás en tu coche?	
¿Cuánto te costará el viaje?	
Observa el mapa y cita al menos dos ciudades por dónde pasarás.	